



## Κριτήριο αξιολόγησης Ενότητας 1

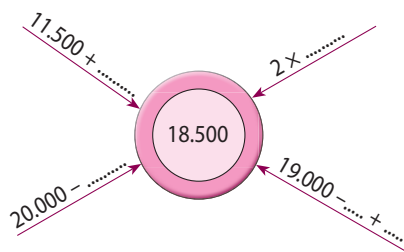
1. Συμπληρώνω τον πίνακα.

Όνομασία	Αριθμός	Τάξη				
		ΔΧ	Χ	Ε	Δ	Μ
Δέκα χιλιάδες δέκα						
	19.009					
		1	5	1	3	1
Δεκαοκτώ χιλιάδες δύο						
	12.902					
Δεκαέξι χιλιάδες τριάντα						
		2	0	0	0	1

Διατάσσω τους παραπάνω αριθμούς από τον μικρότερο προς τον μεγαλύτερο.

.....


2. Φτάνω στον αριθμό-στόχο.



3. Εκτιμώ το άθροισμα  
 $5.500 + 2.640$ .

.....

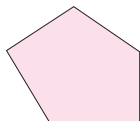
Τώρα το υπολογίζω ακριβώς.



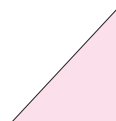
4. Τι είδους σχήματα είναι;




.....



.....



.....



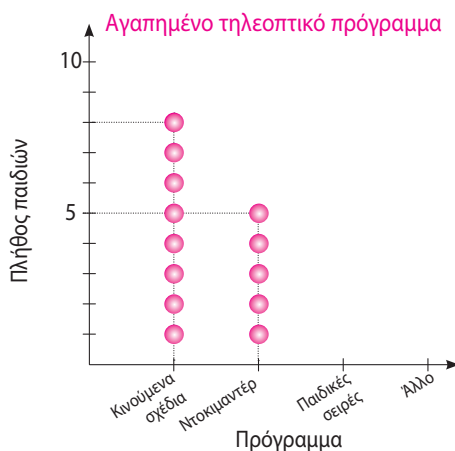
.....





- 5.** Ο Σαλ ρώτησε τα παιδιά της τάξης του:  
 «Ποιο είναι το αγαπημένο σου πρόγραμμα στην τηλεόραση;».  
 Στη συνέχεια συγκέντρωσε τα στοιχεία και τα παρουσίασε σε πίνακα και σε σημειόγραμμα.
- Παρατηρώ και συμπληρώνω ό,τι λείπει στον πίνακα ή στο σημειόγραμμα.

Πρόγραμμα	Πλήθος παιδιών
Κινούμενα σχέδια	
Ντοκιμαντέρ	
Παιδικές σειρές	6
Άλλο	4



**Αξιοποιώ τα παραπάνω στοιχεία και απαντώ:**

- Ποιο πρόγραμμα προτιμούν περισσότερο τα παιδιά;

.....

- Ποιο πρόγραμμα προτιμούν λιγότερο τα παιδιά;

.....

- Πόσα παιδιά ρώτησε ο Σαλ;

.....

- 6.** Ο Νικήτας και η παρέα του έπαιξαν μπάσκετ στο διάλειμμα. Συνολικά ήταν 6 παιδιά.

Πόσα κορίτσια έπαιξαν μαζί του;

Βρίσκω όλες τις δυνατές περιπτώσεις.

<b>Κορίτσια</b>						
<b>Αγόρια</b>	1					
<b>Σύνολο</b>	6	6				